

## Ukážka typov otázok zo slovenského jazyka a literatúry, ktoré používame v testoch pre piatakov

### 22

V ktorých vetách sa nachádza dvojica antoným?

- 1) Navonok komplikovaný príklad mal úplne jednoduché riešenie.
- 2) Pondelková nálada žiakov sa zlepšuje s príchodom piatkového popoludnia.
- 3) Záverečná podoba projektu sa veľmi líšila od jeho počiatkovej predstavy.
- 4) Súčasná reč starších ešte stále obsahuje veľa zastaraných slov.

### 23

Ktoré z nasledujúcich textov sú reklamou na *fotoaparát*?

- 1) Vy stlačíte gombík a fotoaparát sa postará o zvyšok! Predstavujeme fotoaparát, ktorý môže používať naozaj každý aj bez toho, aby čítal podrobné inštrukcie v nudných návodoch na použitie.
- 2) Digitálne zrkadlovky zaručujú vysokú kvalitu výsledných fotografií a plnú kontrolu nad snímkou vďaka možnosti manuálneho nastavenia parametrov. Hlavnou výhodou sú výmenné objektívy. Zrkadlovky využívajú optický hľadáčik, do ktorého sa odráža obraz z objektívu pomocou zrkadla. Fotoografovaný cieľ je teda možné vidieť bez skreslenia.
- 3) Koľko stojí tento moment? Tisíce? Milióny? Okamihy z vášho života sú nezaplátiteľné! Fotíte ich správnym fotoaparátom? Sony Alpha A7 – zhmotní vaše spomienky.
- 4) Fotoaparát používaný 2 roky. V dobrom stave, plne funkčný. Mám k nemu aj doklad o kúpe, ale v záruke už nie je. Na displeji je ochranná fólia, čiže displej je čistý. Objektívy som menil bleskovo, aby sa nedostal skoro žiadny prach na snímač.

### 24

V ktorých možnostiach sú obidve slová napísané pravopisne správne?

- 1) šťastný, kolajnice
- 2) tie, ctiteľ
- 3) metelica, mňe
- 4) sedťe, soľnička

### 25

Ktoré z nasledujúcich výrokov priamo súvisia s dažďom?

- 1) Po daždi zas slnko svieti.
- 2) Dážď svätej Žofie slivky veľmi ubije.
- 3) Májový dážď viac stojí ako Viedeň.
- 4) Rastú ako huby po daždi.




### 26

V každej vete nájdí zámeno a napíš ho v základnom tvare.

- a) Aj najzložitejší problém s ňou vyriešime ľahko.
- b) Prišlo tvojmu bratovi blahoželanie od Zuzky?
- c) Bez nás by bola oslava určite nudná.

### 27

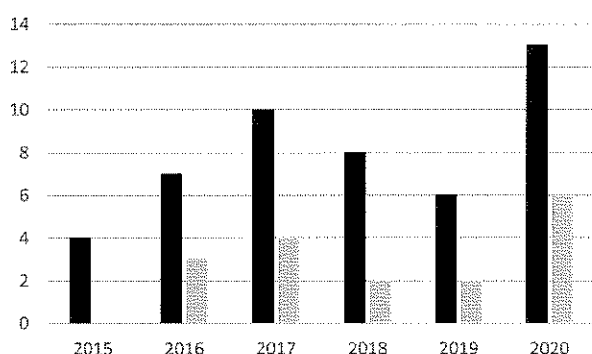
V každej z nasledujúcich viet je slovo, v ktorom je zakryté buď *i / í*, alebo *y / ý*. Napíš toto slovo pravopisne správne a urč jeho slovný druh.

- a) Neustále zápas  s prekážkami.
- b) Lastovička sa živ  hmyzom.
- c) Skalné previs  sú krásnym prírodným úkazom.

## Ukážka typov úloh z matematiky, ktoré používame v testoch pre piatakov

### 12

Graf zachytáva počty hurikánov nad Atlantickým oceánom v rokoch 2015 – 2020. Tmavé stĺpce označujú celkové počty hurikánov v daných rokoch, svetlé stĺpce označujú, koľko z týchto hurikánov dorazilo nad pevninu USA a spôsobilo tam škody.



Ktoré z nasledujúcich tvrdení sú pravdivé?

- 1) V roku 2016 bolo celkovo 10 hurikánov, z toho 7 nad morom a 3 nad pevninou USA.
- 2) V rokoch 2018 – 2020 sa nad Atlantickým oceánom utvorilo celkovo 27 hurikánov.
- 3) V roku 2015 nedorazil ani jeden z hurikánov nad pevninu USA.
- 4) V roku 2018 dorazila nad pevninu USA štvrtina z celkového počtu hurikánov.

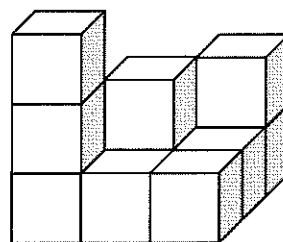
### 13

Každý štvorček štvorčekovej siete má stranu dlhú 1 cm. Eva do nej narysovala obdĺžnik, ktorý obsahoval 12 štvorčekov. Ktoré údaje mohli vyjadrovať obvod tohto obdĺžnika?

- 1) 26 cm
- 2) 20 cm
- 3) 16 cm
- 4) 14 cm

### 14

Na obrázku je stavba postavená z kociek voľne poukladaných na seba. Koľko kociek by mohla stavba obsahovať?



- 1) 9
- 2) 11
- 3) 13
- 4) 14

### 15

Ktoré z nasledujúcich tvrdení o telesách sú pravdivé?

- 1) V každom vrchole kocky sa stretávajú štyri jej hrany.
- 2) Steny kocky majú tvar štvorca.
- 3) Kváder má šesť vrcholov.
- 4) Kváder má dvanásť hrán.

### 16

Lucia si myslí päťciferné číslo, Jakub ho má uhádnuť. Jakub si tipol 23 607, Lucia mu povedala: „Uhádol si všetky číslice, len v nesprávnom poradí. Číslica, ktorú máš na mieste stoviek, má byť na mieste desiatíc. Číslice na mieste jednotiek a desiatok majú byť vymenené. A číslica na mieste stoviek má byť nepárna.“ Aké číslo si myslí Lucia?